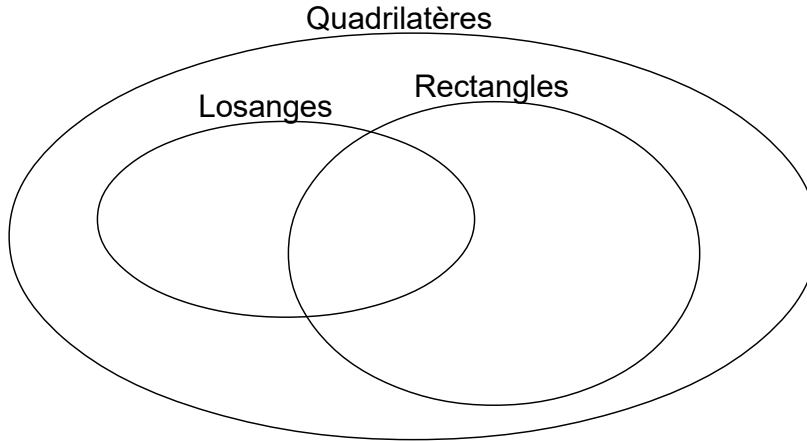


## Énoncés

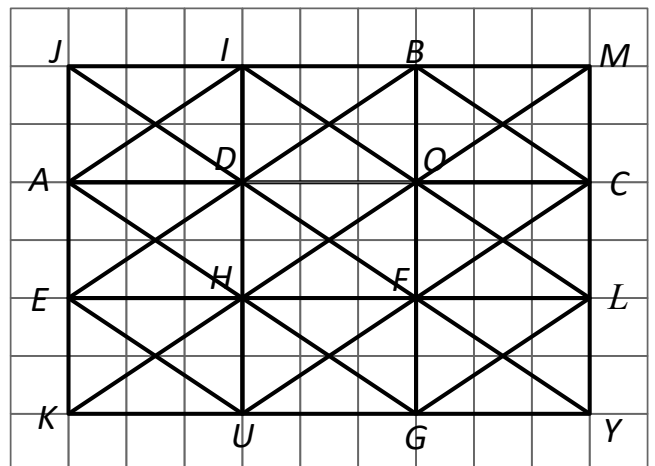
### Exercice 1

Compléter le diagramme ci-dessous avec des figures à main levée, codées convenablement.



### Exercice 2

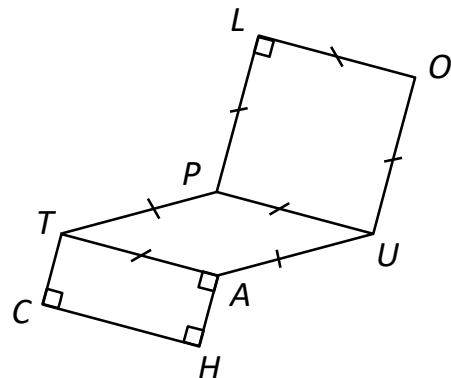
Nommer tous les rectangles, les losanges et les carrés de la figure ci-contre dont les noms sont constitués uniquement de consonnes.



### Exercice 3

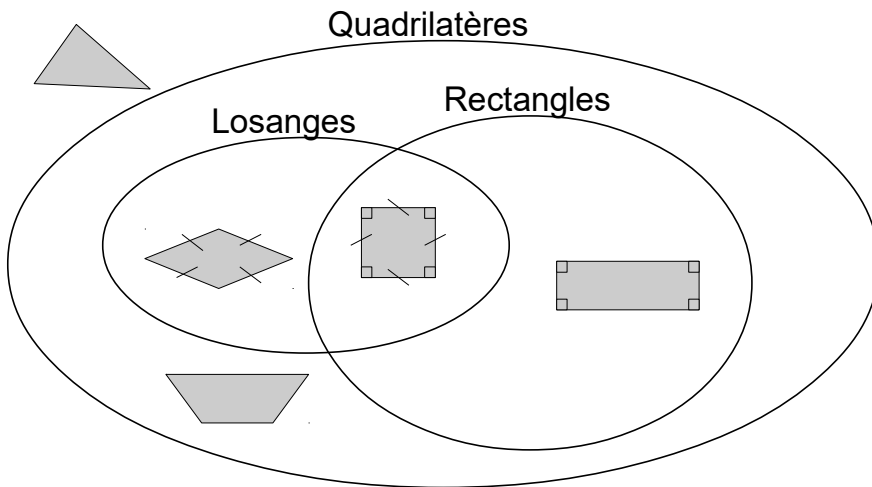
Reproduire cette figure en vraie grandeur, sachant que :

- $TC = 2,5\text{cm}$
- $CH = 3,3\text{cm}$
- $HU = 5,5\text{cm}$



**Corrigés**

**Exercice 1**



**Exercice 2**

Rectangles :  $DCLH, JBGK, BMLF$

Losanges :  $JBGK, BCFD$

Carré :  $JBGK$ .

**Exercice 3**

Commencer par tracer le rectangle  $CHAT$ , suivi du triangle  $HAU$ , puis le losange  $TAUP$  et enfin le carré  $PLOU$ .