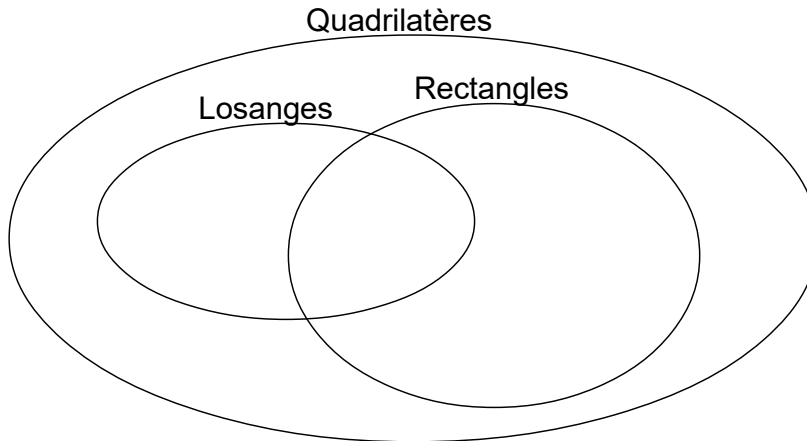


Énoncés

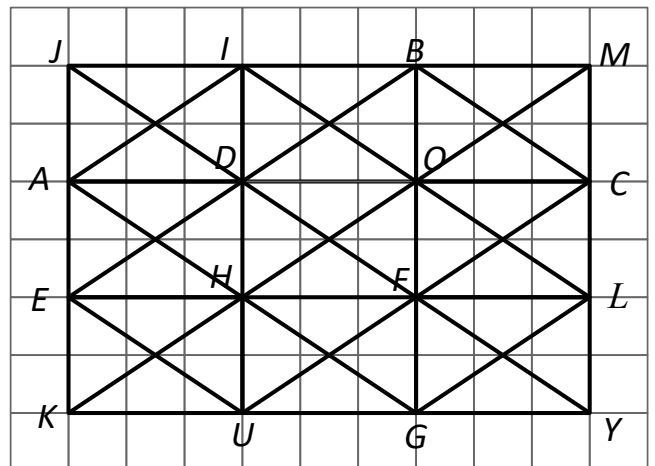
Exercice 1

Compléter le diagramme ci-dessous avec des figures à main levée, codées convenablement.



Exercice 2

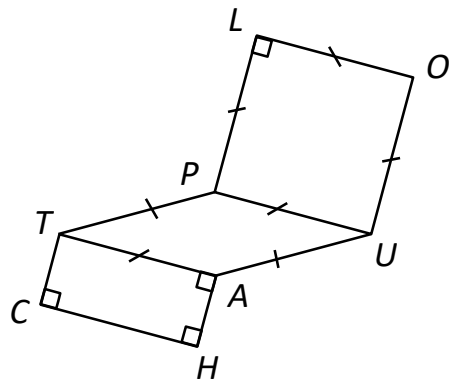
Nommer tous les rectangles, les losanges et les carrés de la figure ci-contre dont les noms sont constitués uniquement de consonnes.



Exercice 3

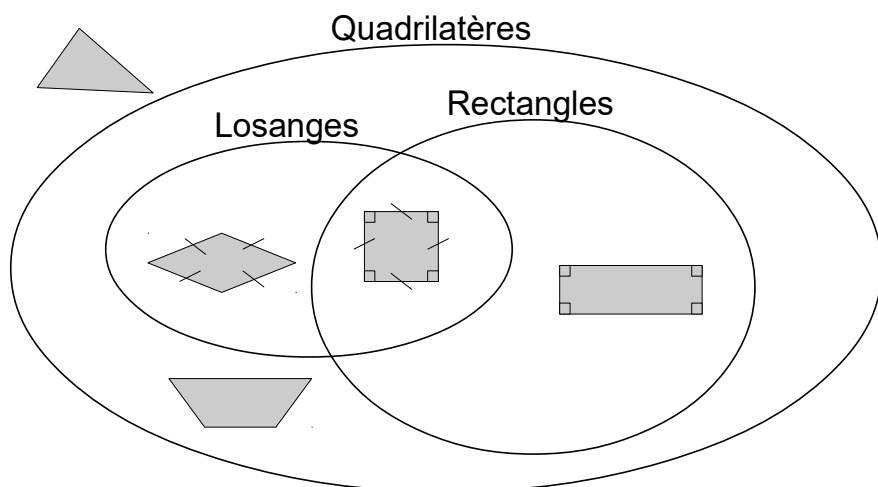
Reproduire cette figure en vraie grandeur, sachant que :

- $TC = 2,5\text{cm}$
- $CH = 3,3\text{cm}$
- $HU = 5,5\text{cm}$



Corrigés

Exercice 1



Exercice 2

Rectangles : $DCLH$, $JBGK$, $BMLF$

Losanges : $JBGK$, $BCFD$

Carré : $JBGK$.

Exercice 3

Commencer par tracer le rectangle $CHAT$, suivi du triangle HAU , puis le losange $TAUP$ et enfin le carré $PLOU$.