

Énoncés

Exercice 10

Tracer les axes de symétrie éventuels des figures suivantes :



Exercice 11

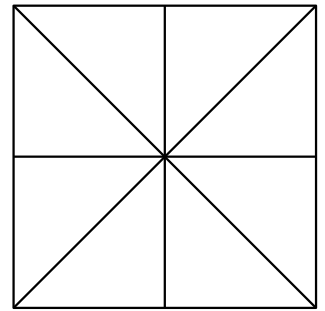
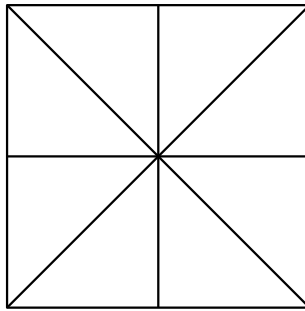
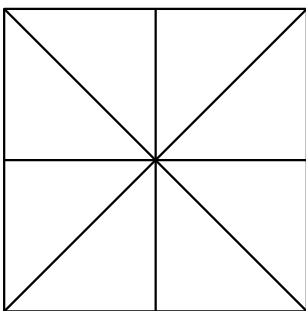
Tracer les figures suivantes avec, en rouge, leurs axes de symétrie :

- a] Carré.
- b] Losange.
- c] Rectangle.
- d] Triangle isocèle non équilatéral.
- e] Triangle équilatéral.
- f] Triangle quelconque.

Exercice 12

Colorier chacune des 8 portions soit en vert, soit en rouge pour que la figure obtenue...

- a] ... n'ait aucun axe de symétrie
- b] ... ait exactement 1 axe de symétrie
- c] ... ait exactement 2 axes de symétrie

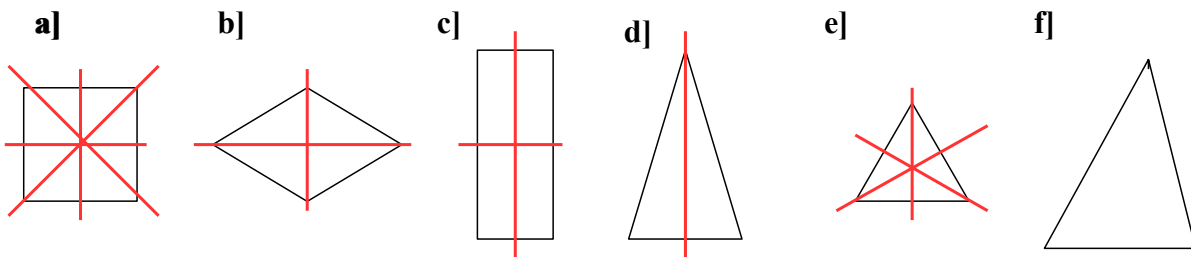


Corrigés

Exercice 10



Exercice 11



Exercice 12

