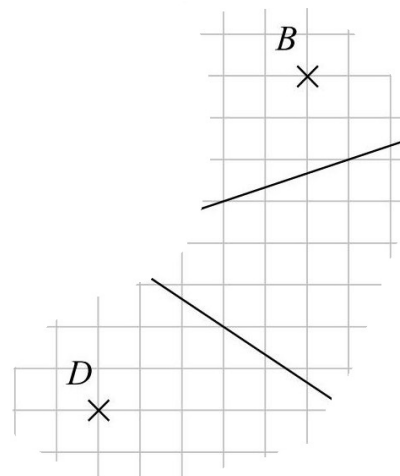
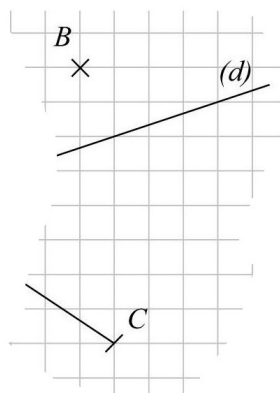
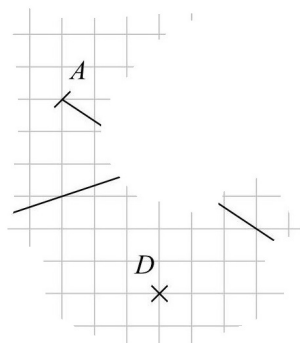


Énoncés

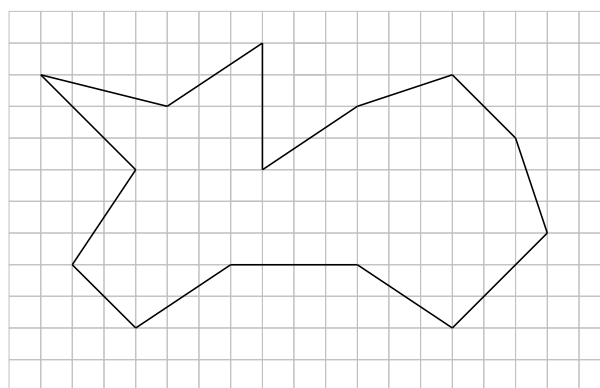
Exercice 4

Trois personnes ont reçu un **même dessin**, plus ou moins agrandi et effacé
Reconstituer le dessin complet sur du papier quadrillé.



Exercice 5

En utilisant le quadrillage - mais sans règle - coder les segments du dessin ci-contre ayant la même longueur.



Exercice 6

En utilisant le quadrillage - mais sans règle - placer les points suivants sur le quadrillage ci-contre :

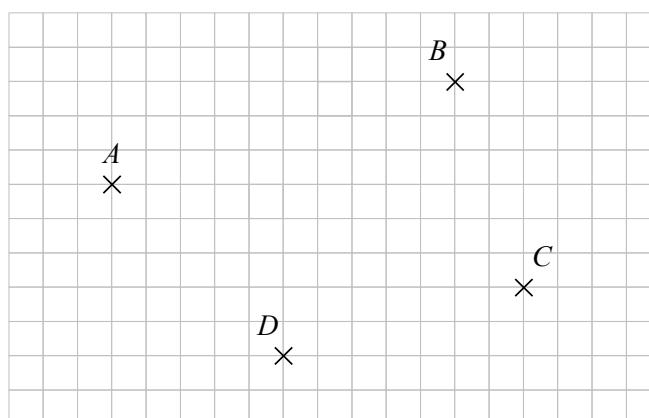
E milieu de $[BC]$

F milieu de $[CD]$

G milieu de $[AD]$

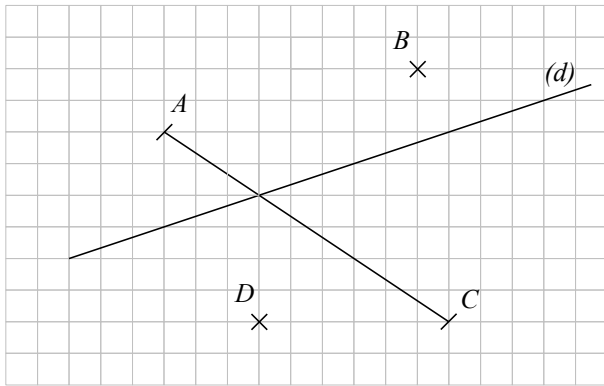
H milieu de $[AB]$

I et J tels que I soit le milieu de $[AC]$ et de $[DJ]$

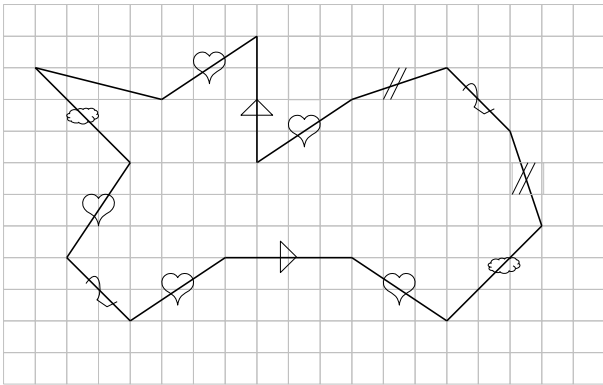


Corrigés

Exercice 4



Exercice 5



Exercice 6

