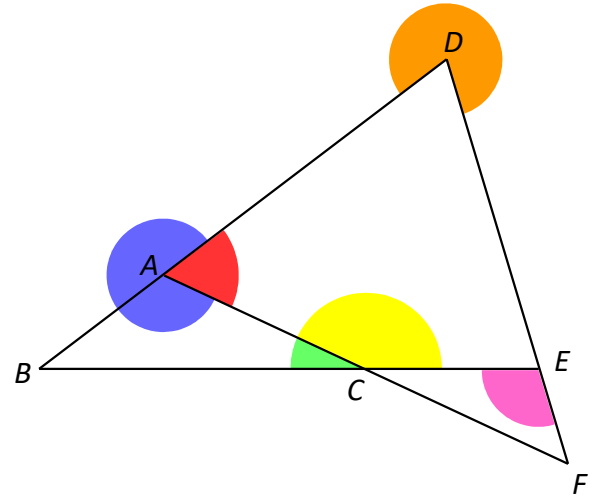


## Énoncés

### Exercice 1

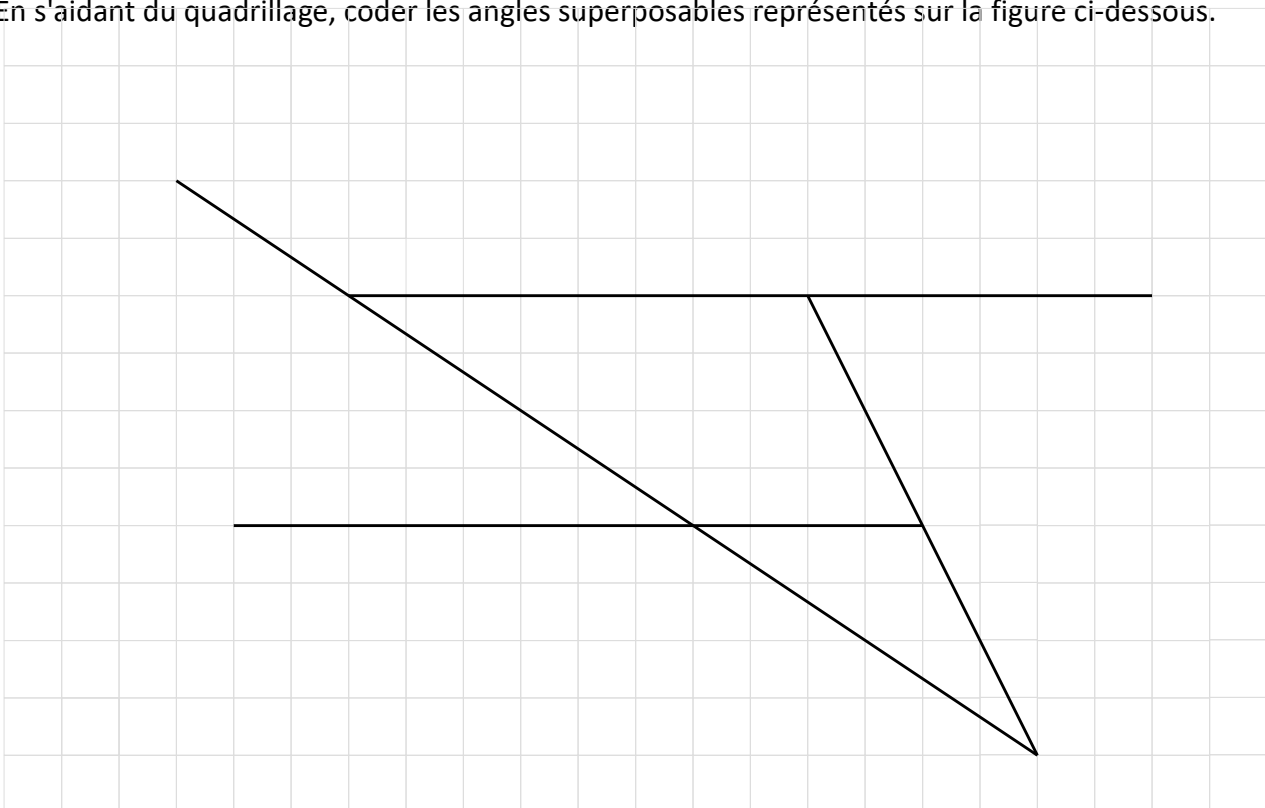
Compléter le tableau à partir du dessin ci-contre.

Angle	Saillant ?	Sommet	Côtés
Bleu			
Rouge			
Jaune			
Vert			
Orange			
Rose			



### Exercice 2

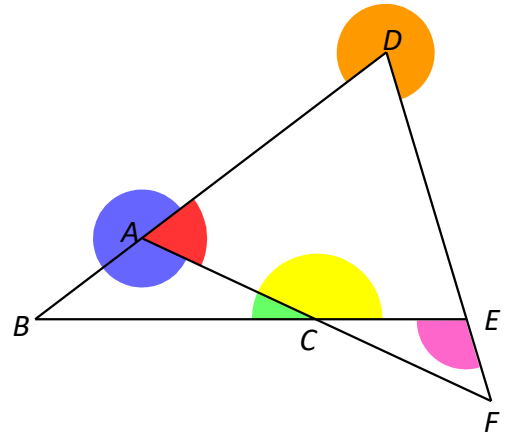
En s'aidant du quadrillage, coder les angles superposables représentés sur la figure ci-dessous.



**Corrigés**

**Exercice 1**

Angle	Saillant ?	Sommet	Côtés
Bleu	Non	A	[AD) et [AC)
Rouge	Oui	A	[AD) et [AC)
Jaune	Oui	C	[CA) et [CE)
Vert	Oui	C	[CA) et [CB)
Orange	Non	D	[DA) et [DE)
Rose	Oui	E	[EC) et [EF)



**Exercice 2**

