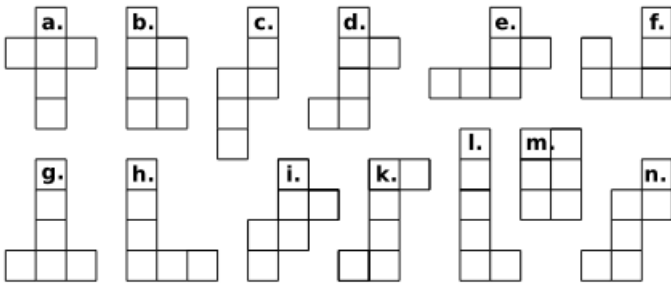


Énoncés

Exercice 7

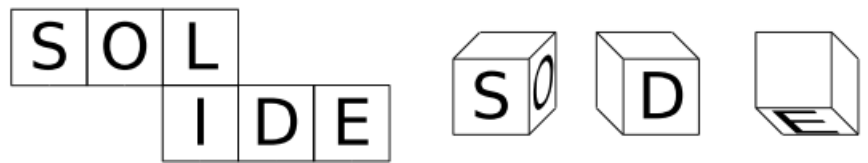
Parmi les figures suivantes, lesquelles sont des patrons de cubes ?



Exercice 8

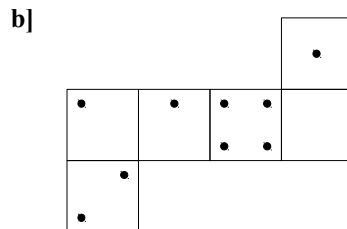
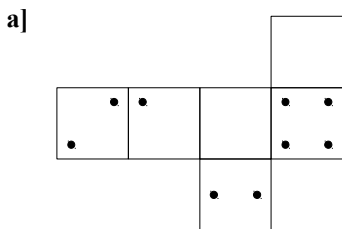
On donne le patron d'un cube.

Compléter les vues en perspective en écrivant, dans le bon sens, les lettres manquantes.



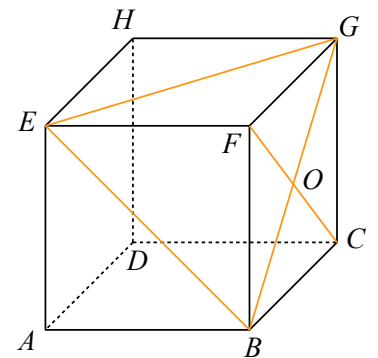
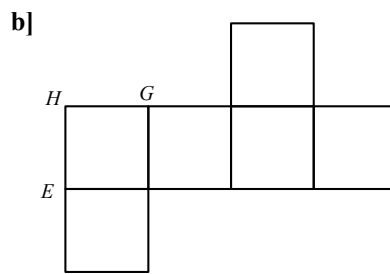
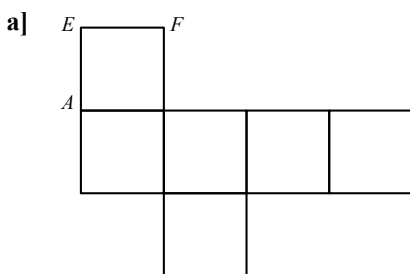
Exercice 9

Sachant que, sur un dé, la somme des nombres de points marqués sur des faces opposées est 7, compléter les patrons suivants :



Exercice 10

Compléter les patrons du cube par les lettres et les segments manquants.



Corrigés

Exercice 7

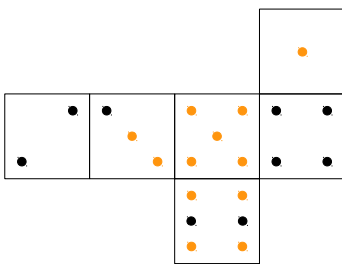
Les patrons de cubes sont a., c., d., g., i., k. et n.

Exercice 8

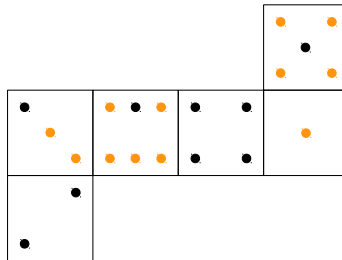


Exercice 9

a)

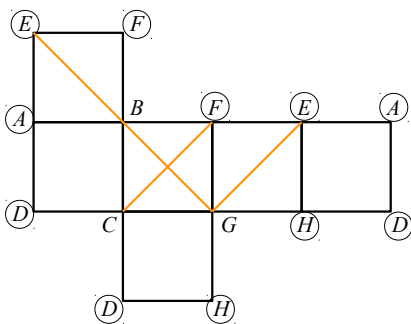


b)



Exercice 10

a)



b)

